

BAB I

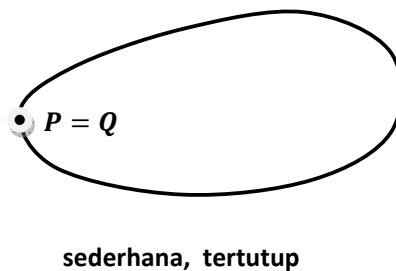
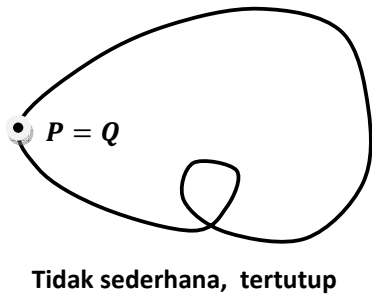
VEKTOR DALAM BIDANG

I. KURVA BIDANG : Penyajian secara parameter

Suatu kurva bidang ditentukan oleh sepasang persamaan parameter.

$$x = f(t); \quad y = g(t) \quad \text{dalam } I$$

f dan g kontinue pada selang I , yang pada umumnya sebuah selang tertutup $[a, b]$



I.1. Menghilangkan Parameter

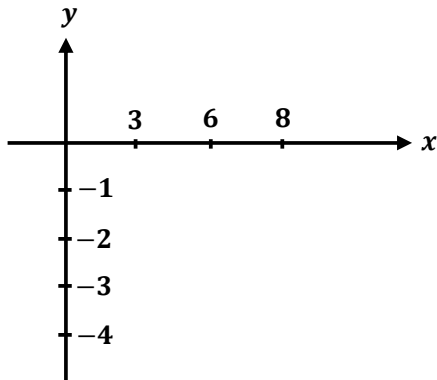
Contoh : Hilangkan parameter t dari persamaan.

$$x = t^2 + 2t, \quad y = t - 3, \quad -2 \leq t \leq 3$$

Solusi : $y = t - 3 \rightarrow t = y + 3$

$$x = (y + 3)^2 + 2(y + 3) = y^2 + 8y + 15$$

$x + 1 = (y + 4)^2 \rightarrow$ merupakan persamaan parabola dengan puncak di $(-1, -4)$.



Contoh : Buktikan bahwa

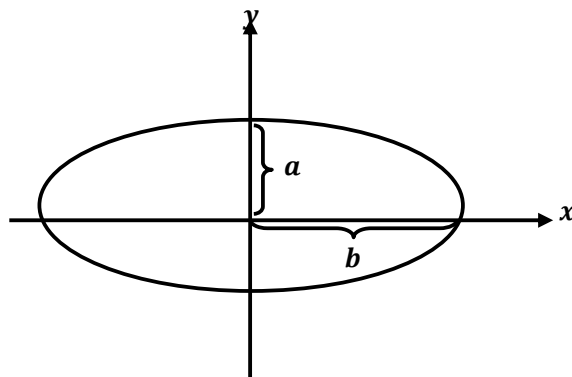
$$x = a \cos t \quad , \quad y = b \sin t \quad , \quad 0 \leq t \leq 2\pi$$

Adalah persamaan ellips

Solusi : $x = a \cos t \rightarrow \cos t = \frac{x}{a}$

$$y = b \sin t \rightarrow \sin t = \frac{y}{b}$$

$$\left(\frac{x}{a}\right)^2 + \left(\frac{y}{b}\right)^2 = \cos^2 t + \sin^2 t = 1$$



1.2. Kalkulus untuk Fungsi yang Ditentukan dalam bentuk parameter

Andaikan f dan g fungsi-fungsi dari t yang turunannya kontinu dan $f'(t) \neq 0$ pada jelang $\alpha \leq t \leq \beta$. Maka persamaan parameter.

$$x = f(t), \quad y = g(t)$$

Mendefinisikan y sebagai fungsi dari x dan

$$\frac{dy}{dx} = \frac{dy/dt}{dx/dt}$$

Contoh : Tentukan turunan pertama dan kedua, yaitu $\frac{dy}{dx}$ dan $\frac{d^2y}{dx^2}$, untuk fungsi yang ditentukan oleh :

$$x = 5 \cos t \quad y = 4 \sin t \quad 0 < t < \pi$$

Hitung turunan itu untuk $t = \frac{\pi}{6}$

Solusi : Bila $\frac{dy}{dx} = y'$

$$\frac{dy}{dx} = \frac{dy/dt}{dx/dt} = \frac{4 \cos t}{-5 \sin t} = -\frac{4}{5} \cot t$$

$$\frac{d^2y}{dx^2} = \frac{dy'}{dx} = \frac{dy'/dt}{dx/dt} = \frac{-4/5 \csc^2 t}{-5 \sin t} = \frac{-4}{25} \csc^3 t$$

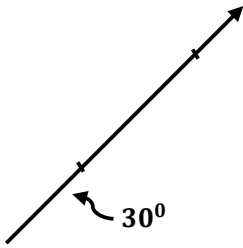
Sehingga untuk $t = \frac{\pi}{6}$, adalah :

$$\frac{dy}{dx} = \frac{-4\sqrt{3}}{5}, \quad \frac{d^2y}{dx^2} = \frac{-4}{25} (8) = \frac{-32}{25}$$

II. VEKTOR PADA BIDANG

Skalar : Besaran yang dinyatakan oleh suatu bilangan

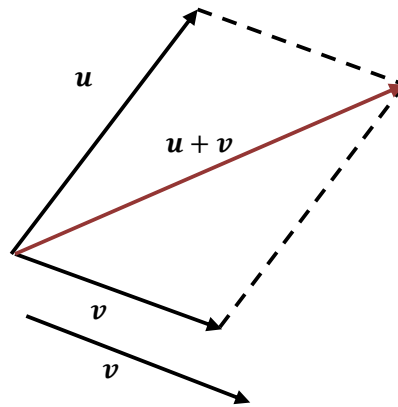
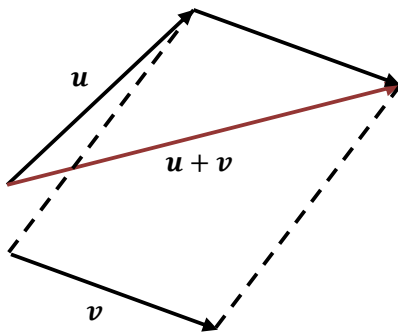
Vektor : Besaran yang dinyatakan oleh suatu bilangan dan arah \rightarrow digambarkan sebagai anak panah.



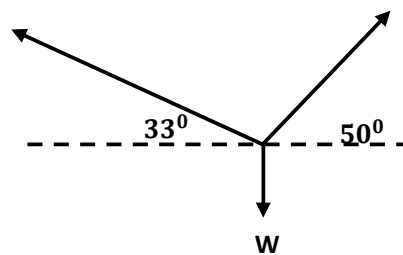
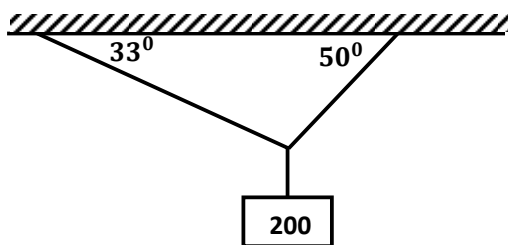
Vektor dapat ditulis dengan huruf tebal u dan v atau \vec{u} dan \vec{v} .

Besarnya vector \vec{u} ditulis dengan $|u|$

2.1. Operasi Terhadap Vektor



Contoh : Sebuah benda 200 Newton digantungkan pada dua utas kawat. Tentukan besarnya tegangan dalam tiap-tiap kawat.



$$|u| \cos 33^\circ = |v| \cos 50^\circ \quad \rightarrow \quad |v| = \frac{|u| \cos 33^\circ}{\cos 50^\circ}$$

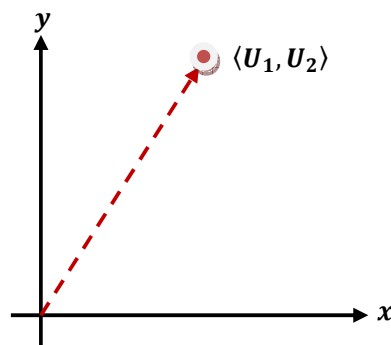
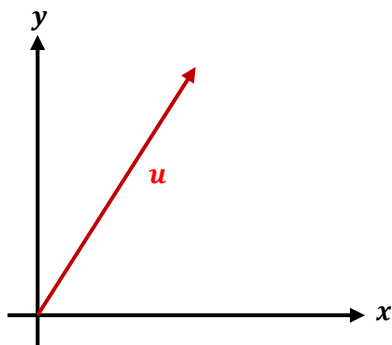
$$|u| \sin 33^\circ + |v| \sin 50^\circ = |W| = 200$$

$$|u| \sin 33^\circ + |u| \frac{\cos 33^\circ}{\cos 50^\circ} \sin 50^\circ = 200$$

$$|u| = \frac{200}{\sin 33^\circ + \cos 33^\circ \tan 50^\circ} = 129,52 \text{ N}$$

$$\text{Sehingga : } |v| = \frac{|u| \cos 33^\circ}{\cos 50^\circ} = 168,99 \text{ N}$$

3. VEKTOR PADA BIDANG : PENDEKATAN SECARA ALJABAR



Vektor U dapat dinyatakan secara aljabar dengan pasangan terurut $\langle U_1, U_2 \rangle$

Operasi Pada Vektor

Bilangan U_1 dan U_2 dinamakan komponen-komponen vector $= \langle U_1, U_2 \rangle$. Dua vektor $U = \langle U_1, U_2 \rangle$ dan $V = \langle V_1, V_2 \rangle$ adalah sama, jika dan hanya jika $U_1 = V_1$ dan $U_2 = V_2$.

Sehingga :

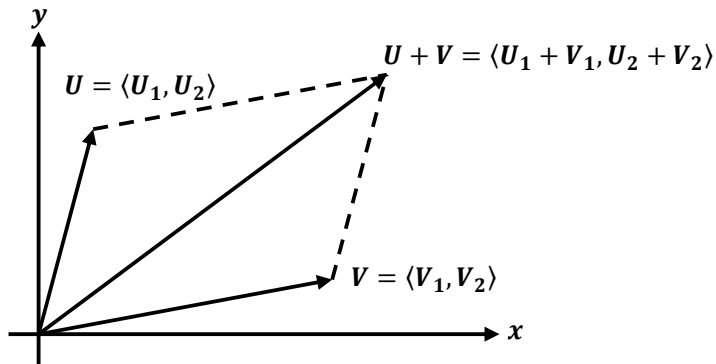
$$U + V = \langle U_1 + V_1, U_2 + V_2 \rangle$$

Untuk mengalikan U dengan scalar C adalah

$$UC = CU = \langle CU_1, CU_2 \rangle$$

$$-U = \langle -U_1, -U_2 \rangle$$

$$\mathbf{0} = \mathbf{0}U = \langle \mathbf{0}, \mathbf{0} \rangle$$



PANJANG DAN HASILKALI TITIK PANJANG

Panjang suatu vektor $|u|$ ditentukan oleh :

$$|u| = \sqrt{u_1^2 + u_2^2}$$

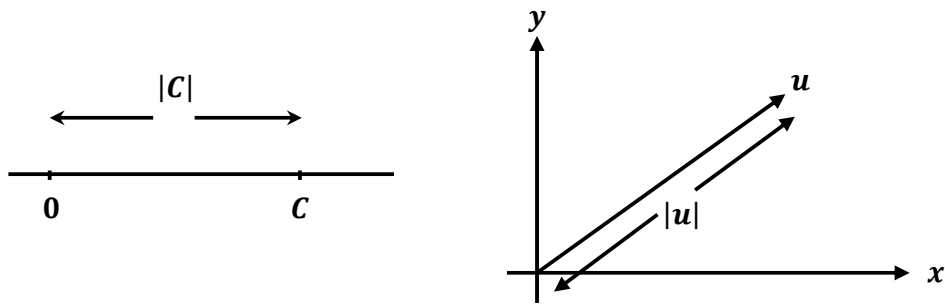
Misal, jika $U = \langle 4, -2 \rangle$, maka $|u| = \sqrt{4^2 + (-2)^2} = 2\sqrt{5}$

Jika u dikalikan dengan scalar C , maka :

$$|Cu| = |C||u|$$

$|C|$ = nilai mutlak C , jarak antara titik asal dan C pada garis bilangan

$|u|$ = panjang u , jarak antara titik asal dan ujung u pada bidang



Contoh : Bila $U = \langle 4, -3 \rangle$, tentukan $|-2u|$, tentukan pula vektor v yang searah dengan u tetapi dengan panjang 1.

Solusi : $|u| = \sqrt{4^2 + (-3)^2} = 5$ dan $|-2u| = |-2||u| = 2 \times 5 = 10$

$$v = \frac{u}{|u|} = \frac{\langle 4, -3 \rangle}{5} = \frac{1}{5} \langle 4, -3 \rangle = \left\langle \frac{4}{5}, -\frac{3}{5} \right\rangle$$

Perkalian dua vektor u dan v dinamakan hasil kali titik, yang dilambangkan dengan $u \cdot v$

$$u \cdot v = u_1 \cdot v_1 + u_2 \cdot v_2$$

Teorema :

Jika u, v dan w vektor dan c skalar, maka :

1. $u \cdot v = v \cdot u$
2. $u \cdot (v + w) = u \cdot v + u \cdot w$
3. $c(u \cdot v) = (cu) \cdot v = u \cdot (cv)$
4. $0 \cdot u = 0$
5. $u \cdot u = |u|^2$

Jika u dan v adalah vektor tidak nol, maka :

$$\|u \cdot v\| = \|u\| \|v\| \cos \theta \quad \theta = \text{sudut antara } u \text{ dan } v$$

Dua vektor u dan v tegak lurus jika dan hanya jika $u \cdot v = 0$

Contoh : Tentukan b sehingga $u = \langle 8, 6 \rangle$ dan $v = \langle 3, b \rangle$ tegak lurus.

Solusi : $u \cdot v = (8)(3) + (6)(b) = 24 + 6b = 0$

$$b = -4$$

Contoh : Tentukan sudut antara $u = \langle 8, 6 \rangle$ dan $v = \langle 5, 12 \rangle$

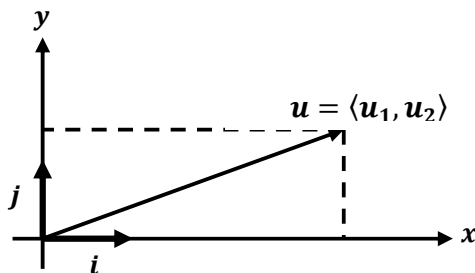
Solusi : $\cos \theta = \frac{u \cdot v}{|u||v|} = \frac{(8)(5) + (6)(12)}{(10)(13)} = \frac{112}{130} = 0,862$

$$\theta = 30,5^\circ$$

VEKTOR BASIS

Andaikan $i = \langle 1, 0 \rangle$ dan $j = \langle 0, 1 \rangle$ dan perhatikan bahwa vektor-vektor ini tegak lurus dan bahwa panjangnya sama dengan satu. Vektor i dan j ini dinamakan VEKTOR BASIS, sebab setiap vektor $u = \langle u_1, u_2 \rangle$ dapat dinyatakan secara tunggal dengan i dan j yaitu :

$$u = \langle u_1, u_2 \rangle = u_1 \langle 1, 0 \rangle + u_2 \langle 0, 1 \rangle = u_1 i + u_2 j$$



Contoh : Tentukan besarnya sudut ABC, dengan $A = (4, 3)$, $B = (1, -1)$, dan $C = (6, -4)$

Solusi : $u = \overrightarrow{BA} = (4 - 1)i + (3 + 1)j = 3i + 4j = \langle 3, 4 \rangle$

$$v = \overrightarrow{BC} = (6 - 1)i + (-4 + 1)j = 5i - 3j = \langle 3, 4 \rangle$$

$$|u| = \sqrt{3^2 + 4^2} = 5; \quad |v| = \sqrt{5^2 + (-3)^2} = \sqrt{34}$$

$$u \cdot v = (3)(5) + (4)(-3) = 3$$

$$\cos \theta = \frac{u \cdot v}{|u||v|} = \frac{3}{5\sqrt{34}} = 0,1029$$

$$\theta = 84,09^\circ$$

Andaikan θ sudut antara u dan v . Skalar $|u|\cos \theta$ dinamakan Proyeksi Skalar u pada v .

Kerja yang dilakukan oleh gaya konstan F yang menggerakkan sebuah benda dari P hingga Q adalah besarnya gaya dalam arah gerak dikalikan dengan jarak yang ditempuh. Jadi apabila D adalah vektor dari P hingga Q , besarnya kerja adalah :

$$(\text{Proyeksi skalar } F \text{ pada } D) |D| = |F|\cos \theta |D|$$

$$\text{Kerja} = F \cdot D$$

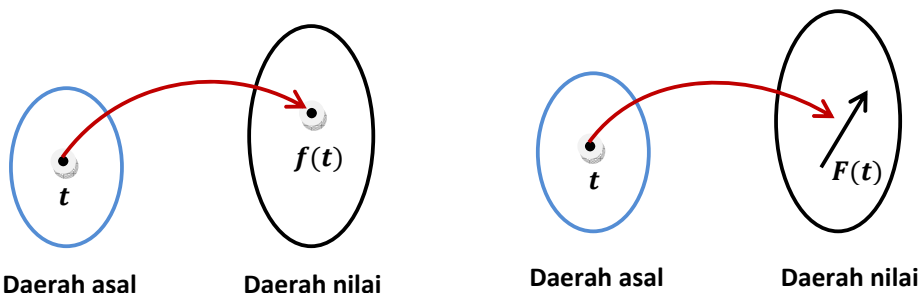
Contoh : Sebuah gaya $F = (80)i + (50)j$ dengan satuan pon memindahkan benda dari $(1, 0)$ hingga $(7, 1)$. Jarak diukur dengan kaki. Berapakah besarnya...

Solusi : Bila D vektor dari $(1, 0)$ hingga $(7, 1)$ maka $D = 6i + 7j$, jadi :

$$\text{Kerja} = F \cdot D = (80)(6) + (50)(7) = 530 \text{ pon-kaki}$$

4. FUNGSI BERNILAI VEKTOR DAN GERAK SEPANJANG KURVA

Sebuah fungsi f memetakan setiap anggota t dari sebuah himpunan (daerah asal) dengan nilai tunggal $f(t)$ anggota himpunan lain. Himpunan nilai-nilai demikian disebut daerah nilai fungsi f .



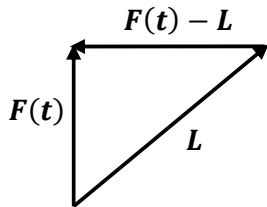
Suatu fungsi F bernilai vektor dengan peubah riil t memadankan tiap bilangan riil t dengan satu vektor $F(t)$. Jadi :

$$F(t) = f(t)i + g(t)j = \langle f(t), g(t) \rangle$$

Missal $F(t) = t^2i + e^tj = \langle t^2, e^t \rangle$

KALKULUS FUNGSI VEKTOR

$\lim_{t \rightarrow c} F(t) = L$ berarti bahwa vector $F(t)$ menuju ke vektor L apabila t menuju c atau vektor $F(t) - L$ menuju vektor 0 apabila $t \rightarrow c$.



Definisi :

$\lim_{t \rightarrow c} F(t) = L$ berarti bahwa untuk tiap $\varepsilon > 0$ ada bilangan $\delta > 0$ sedemikian sehingga $|F(t) - L| < \varepsilon$ asal saja dipenuhi $0 < |t - c| < \delta$, yaitu :

$$0 < |t - c| < \delta \rightarrow |F(t) - L| < \varepsilon$$

Teorema :

Andaikan $F(t) = f(t)i + g(t)j$. Maka F memiliki limit di c jika dan hanya jika f dan g memiliki limit di c .

$$\lim_{t \rightarrow c} F(t) = \left[\lim_{t \rightarrow c} f(t) \right] i + \left[\lim_{t \rightarrow c} g(t) \right] j$$

Apabila $(t) = f(t)i + g(t)j$, maka

$$\|F'(t) = f'(t)i + g'(t)j = \langle f'(t), g'(t) \rangle\|$$

Contoh : jika $F(t) = (t^2 + t)i + e^tj$, tentukan $F'(t), F''(t)$, dan sudut θ antara

$$F'(0), F''(0)$$

Solusi : $F'(t) = (2t + 1)i + e^t j$ dan $F''(t) = 2i + e^t j$, jadi :

$$F'(0) = i + j ; F''(0) = 2i + j$$

$$\cos \theta = \frac{F'(0) \cdot F''(0)}{|F'(0)| |F''(0)|} = \frac{(1)(2) + (1)(1)}{\sqrt{1^2 + 1^2} \sqrt{2^2 + 1}} = \frac{3}{\sqrt{2}\sqrt{5}}$$

$$\|\theta = 18,43^\circ\|$$

Teorema :

Andaikan F dan G fungsi vektor yang dapat didiferensialkan, h suatu fungsi bernilai riil yang dapat didiferensialkan dan c sebuah scalar. Maka :

1. $D_t[F'(t) + C_T'(t)] = F'(t) + C_T'(t)$

2. $D_t[cF(t)] = cF'(t)$

3. $D_t[h(t)F(t)] = h(t)F'(t) + h'(t)F(t)$

4. $D_t[F(t) + C_T(t)] = F'(t) + C_T'(t)$

5. $D_t[F(h(t))] = F'(h(t))h'(t) \rightarrow$ aturan rantai

Contoh : Jika $F(t) = t^2i + e^{-t}j$, tentukan

a). $D_t[t^3F(t)]$; b). $\int_0^1 F(t) dt$

solusi : a). $D_t[t^3F(t)] = t^3(2ti - e^{-t}j) + 3t^2(t^2i + e^{-t}j)$

$$= 5t^4i + (3t^2 - t^3)e^{-t}j$$

b). $\int_0^1 F(t) dt = \left(\int_0^1 t^2 dt\right)i + \left(\int_0^1 e^{-t} dt\right)j$

$$= \frac{1}{3}i + (1 + e^{-1})j$$

GERAK SEPANJANG KURVA

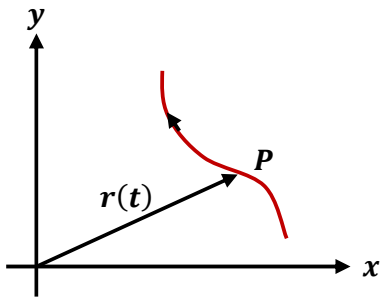
Andaikan t menggambarkan waktu dan andaikan koordinat sebuah titik P yang bergerak ditentukan oleh persamaan parameter

$$x = f(t), \quad y = g(t)$$

Maka vektor :

$$r(t) = f(t)i + g(t)j$$

Yang berpangkal dititik asal dinamakan vektor posisi titik P pada saat t . Apabila t berubah ujung vektor $r(t)$ bergerak sepanjang lintasan titik P .

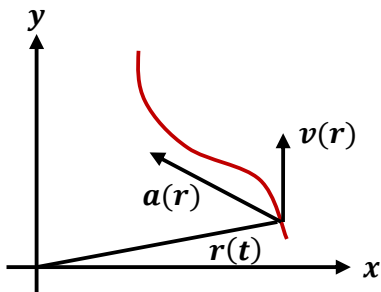


Lintas ini adalah sebuah kurva dan gerak yang dijalani oleh P dinamakan gerak sepanjang kurva.

Sejalan dengan gerak linier , maka kecepatan $v(t)$, dan percepatan $a(t)$ titik P adalah

$$v(t) = r'(t) = f'(t)i + g'(t)j$$

$$g(t) = r''(t) = f''(t)i + g''(t)j$$



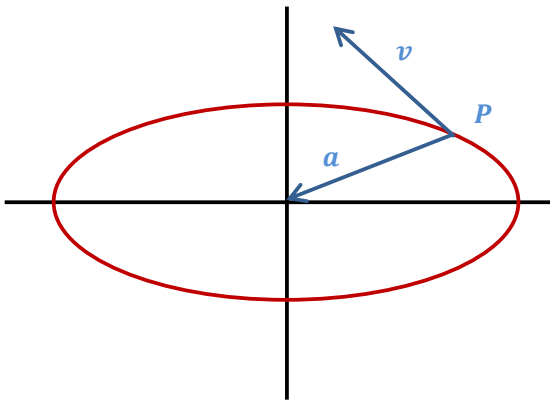
Contoh :

Persamaan parameter sebuah titik P yang bergerak pada bidang adalah $x = 3 \cos t$ dan $y = 2 \sin t$, dengan t menggambarkan waktu

- (a) Gambarlah grafik lintasan P .
- (b) Tentukan rumus untuk kecepatan $v(t)$, laju $|v(t)|$, dan percepatan $a(t)$.
- (c) Tentukan nilai maksimum dan minimum laju dan pada saat manakah nilai itu tercapai.
- (d) Buktikan bahwa vektor percepatan yang berpangkal di P selalu menuju ke titik asal.

Solusi :

(a) $\frac{x^2}{9} + \frac{y^2}{4} = 1 \rightarrow$ ellips



(b) Vektor posisi $\rightarrow r(t) = 3 \cos t i + 2 \sin t j$

$$u(t) = -3 \sin t i + 2 \cos t j$$

$$|v(t)| = \sqrt{9 \sin^2 t + 4 \cos^2 t} = \sqrt{5 \sin^2 t + 4}$$

$$a(t) = -3 \cos t i - 2 \sin t j$$

- (c) Karena laju ditentukan oleh $\rightarrow \sqrt{5 \sin^2 t + 4}$, maka nilai maksimum adalah 3 ; pada $\sin t = \pm 1$.

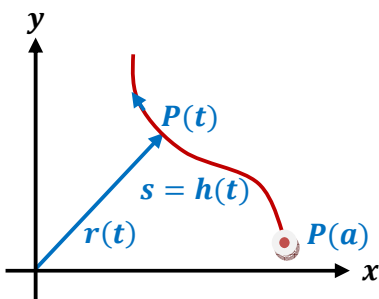
yaitu apabila $t = \pi/2$ atau $3\pi/2 \rightarrow$ yaitu pada titik $(0, \pm 2)$ pada ellips.

Laju minimum, yaitu 2, dicapai pada saat $\sin t = 0$ yang memberikan titik-titik $(\pm 3, 0)$.

- (d) $a(t) = -r(t) \rightarrow$ bila pangkal $a(t)$ kita ambil di P , vektor ini akan mengarah ke ujung akan tepat ada di titik asal. Maka $|a(t)|$ paling besar berada di $(\pm 3, 0)$ dan paling kecil di $(0, \pm 2)$.

5. KELENGKUNGAN DAN PERCEPATAN

Kelengkungan \rightarrow seberapa tajam sebuah kurva melengkung



Andaikan untuk $a \leq t \leq b$, $r(t) = f(t)i + g(t)j$ adalah vektor posisi titik $P = P(t)$ pada bidang.

Andaikan $r'(t)$ ada dan kontinu dan $r'(t) \neq 0$ pada selang $[a, b]$.

Maka apabila t nilainya naik, P bergerak sepanjang sebuah kurva yang mulus. Panjang lintasan $s = h(t)$ dari $P(a)$ ke $P(t)$ ditentukan oleh :

$$s = h(t) = \int_a^t \sqrt{[f'(u)]^2 + [g'(u)]^2} du = \int_a^t |r'(u)| du$$

Laju titik yang bergerak itu adalah :

$$\frac{ds}{dt} = |r'(u)| = |v(t)|$$

Karena $r'(t) \neq 0$, maka $|v(t)| > 0 \rightarrow s$ naik bila t naik

Dengan Teorema fungsi balikan, $s = h(t) \rightarrow t = h^{-1}(s)$

$$\frac{dt}{ds} = \frac{1}{\frac{ds}{dt}} = \frac{1}{|v(t)|}$$

Andaikan $T(t)$ disebut vector singgung satuan di $P(t)$

$$\left\| T(t) = \frac{dT}{ds} = \frac{|T'(t)|}{|v(t)|} \right\|$$

Contoh : Tentukan kelengkungan dan radius kelengkungan hiposikloid $r = 8\cos^3 t i + 8\sin^3 t j$ di titik P dengan $t = \pi/12$

Solusi : untuk $0 < t < \pi/2$

$$v(t) = r'(t) = -24\cos^2 t \sin t i + 24\sin^2 t \cos t j$$

$$|v(t)| = 24 \sin t \cos t$$

$$T(t) = -\cos t i + \sin t j$$

$$T'(t) = \sin t i + \cos t j$$

$$\begin{aligned} K(t) &= \frac{|T'(t)|}{|v(t)|} = \frac{|\sin t i + \cos t j|}{24 \sin t \cos t} = \frac{1}{24 \sin t \cos t} \\ &= \frac{1}{12 \sin 2t} \end{aligned}$$

$$K(\pi/12) = \frac{1}{12 \cdot \frac{1}{2}} = \frac{1}{6} \rightarrow R(\pi/12) = 6$$